

Образовательный минимум

Предмет	Черчение
Класс	8
Полугодие	1

1. Ребус

Отвечая на вопросы, составьте высказывание – предложение про чертеж

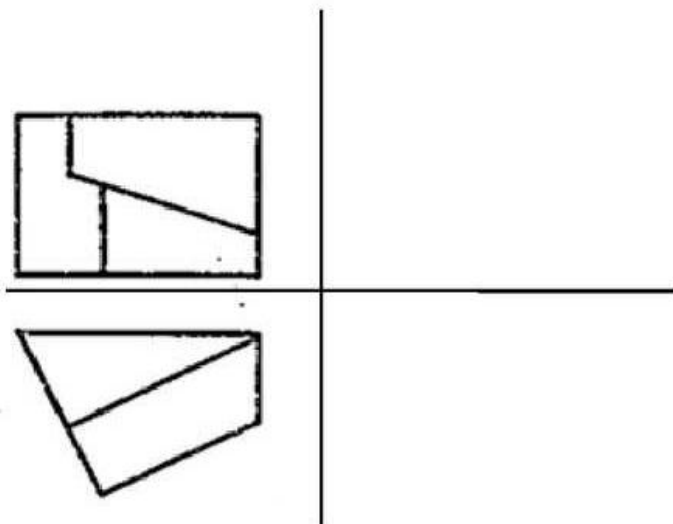
Вопрос

1. Линия сгиба на развертках
2. Выносная линия
3. Осевая линия
4. Линия видимого контура
5. Штриховая линия
6. Линия обрыва
7. Штрихпунктирная тонкая
8. Знак радиуса окружности

Ключ

- - чертеж
- - невозможна
- - как
- - без
- ~~~~~ - музыка
- - архитектура
- R* - звука

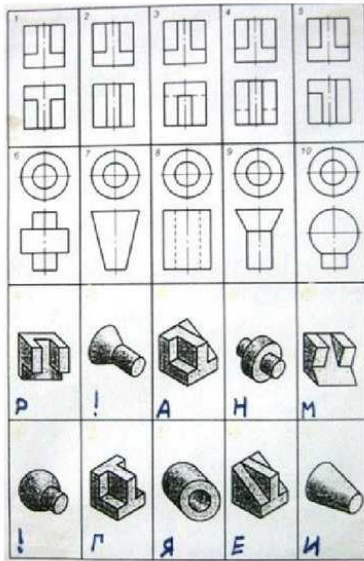
2. Даны две проекции одной детали - вид спереди и вид сверху. Сможете ли вы начертить вид сбоку?



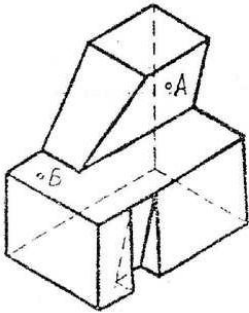
Образовательный минимум

Предмет	Черчение
Класс	8
Полугодие	2

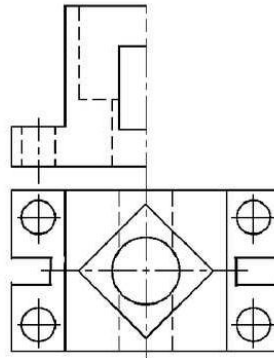
3. Определить какому рисунку, обозначенному цифрой соответствует чертёж, обозначенный буквой.



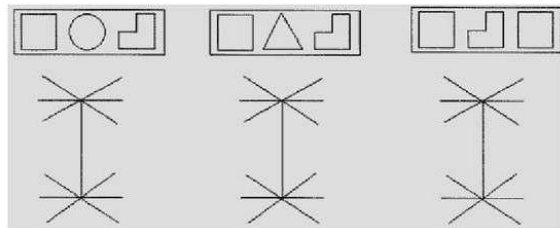
4. Построить чертёж в необходимом количестве видов, нанести проекции точек.



5. Достроить главный вид детали, выполнить целесообразный разрез



6. Выполнить технический рисунок модели, которая бы плотно закрывала все три отверстия в пластине при повороте её каким-то одним боком (стороной).



7. Назовите геометрические тела.

